



INSTITUCION EDUCATIVA RURAL LA FLORESTA
MACEO- ANTIOQUIA

GUIA DE CIENCIAS SOCIALES

COLOMBIA 1

GRADO CLEI 3

FREDY CALDERON

DOCENTE

Objetivo de Aprendizaje

IDENTIFICA LAS REGIONES NATURALES DE COLOMBIA Y SUS CARACTERISTICAS.

Introducción

En esta guía de aprendizaje desarrollaran una serie de actividades que los lleven a comprender el tema propuesto, no es necesario imprimir o transcribir la totalidad de este material y el desarrollo de las actividades se realiza en el cuaderno de Sociales.

Si se requiere información adicional, cualquier duda, y las evidencias de las actividades a desarrollar, comunicarse al número 3114298581. El horario de atención es de lunes a viernes en el horario estipulado. La fecha de entrega de las evidencias está programada para el viernes de 30 de abril del 2021.

Para evitar que se acumule el trabajo para un solo día, desarrolle una parte de la guía cada día así no se cansara tanto y le será más fácil aprender.

¿Qué voy a aprender?

Contenidos segundo periodo

1. Generalidades de colombia
2. Regiones de colombia
 - 2.1. Region andina
 - 2.2. Region pacifica
 - 2.3. Region caribe

- 2.4. Region amazonica
- 2.5. Region oriniquia
- 2.6. Region insular

Criterios de evaluación

1. 3 guias, que se deben presentar de manera completa, puntual, ordenada y legible. Desarrolladas a mano en el cuaderno del area. 70%
2. Evaluacion final 30%

Resuelve las actividades propuestas en el cuaderno de sociales

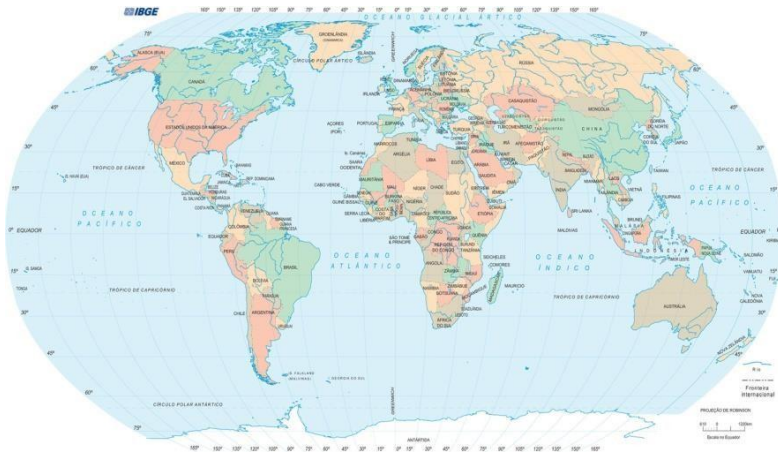
REPRESENTACIÓN DEL ESPACIO GEOGRÁFICO

¿QUE ES UNA REPRESENTACIÓN CARTOGRÁFICA?

Es un dibujo o grafica que muestra de forma reducida, esquemática y proporcionalmente la distribución de algunos elementos y fenómenos de la Tierra o de parte de ella.

Las principales representaciones de la tierra son los mapas, los planisferios y los globos terráqueos.

LOS PLANISFERIOS: Son representaciones geográficas de la esfera terrestre sobre un plano. En este tipo de representaciones la forma casi esférica del planeta se presenta plana. En el planisferio es posible apreciar todos los continentes y océanos de forma simultánea y permite tener una idea clara de su ubicación.



Los planisferios ofrecen información sobre diferentes temas, por ejemplo, relieve e hidrografía.



LOS GLOBOS TERRÁQUEOS: Muestra aspectos generales de la Tierra como la distribución de los océanos y los continentes, las formas más representativas del relieve y la ubicación de la mayor parte de los países, entre otros. Su forma esférica imita la redondez de la tierra. Sin embargo, presenta algunas desventajas. Por ejemplo, no incluye información sobre áreas reducidas como países pequeños, ciudades, pueblos o ríos cortos. Además, es difícil de transportar y solo permite observar un hemisferio a la vez.

El globo terráqueo representa la Tierra y conserva su forma casi esférica.

LOS MAPAS: Son representaciones gráficas abstractas de diferentes zonas de la tierra, que permite ubicar lugares, hallar distancias, identificar rutas y reconocer la distribución de diversos elementos. Esto quiere decir que en un mapa es posible encontrar información física como la extensión de los países, las formas del relieve, los tipos de clima y los recursos naturales. También información humana como las actividades económicas.

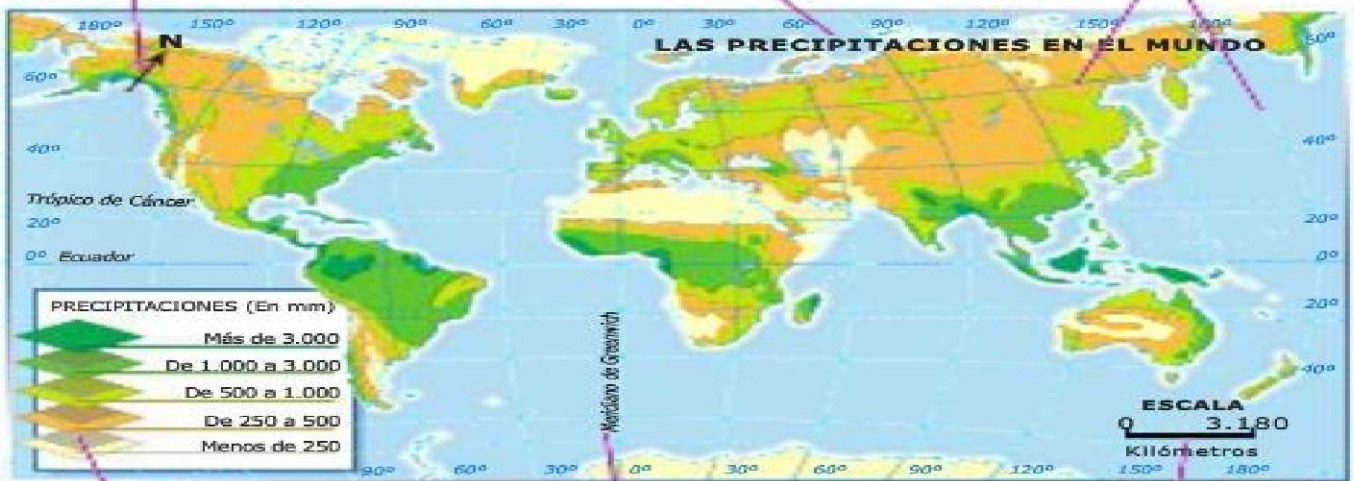


Un mapa contiene los siguientes elementos:

a flecha nos permite orientar el mapa.

El título informa sobre qué trata el mapa, el territorio representado, el tema, la fecha, etc.

Los paralelos y los meridianos sirven para localizar los lugares con exactitud.



La **leyenda** recoge los símbolos utilizados para representar los datos.

En la mayoría de los mapas se incluyen **textos** con los nombres de los lugares o con otras informaciones.


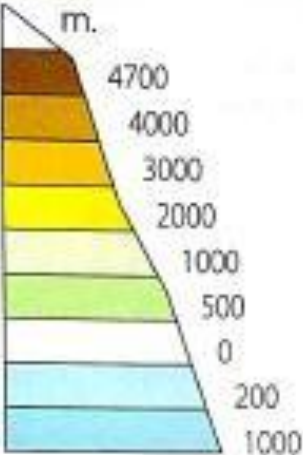








La **escala** indica cuántas veces se ha reducido el territorio que se representa.

ACTIVIDADES: Recorto y pego en mi libreta un globo terráqueo, un planisferio y un mapa.

Convenciones en los mapas

Para resumir y representar en un mapa los elementos y fenómenos característicos de un territorio se utilizan diferentes símbolos, llamados **convenciones**, cuyo significado se denomina **leyenda**.

Existen varias clases de convenciones que se puede utilizar en un mapa, dependiendo del tema. Observa la tabla.

Colores	Tonos	Tramas
 Español		 Andina
 Inglés		 Amazonia
 Francés		 Caribe
 Italiano		 Orinoquia
 Alemán		 Pacífica
 Portugués		
Figuras	Signos	Líneas
 Café	 Capital nacional	 Ríos
 Algodón	 Capital departamental	 Límite internacional
 Cacao	 Cabecera municipal	 Límite nacional
 Banano	 Caserío	 Carretera
 Papa	 Sitio	 Ferrocarril
 Ganadería		

RESPONDE:

1. ¿Qué problemas se pueden presentar cuando utilizas un mapa que no tiene la tabla de convenciones y leyenda? Explica tu respuesta.
2. Con uno de tus compañeros, seleccionen un mapa en un atlas. Expliquen al resto de la clase qué tipo de mapa es, que elementos (convenciones) observan y para qué sirven.

FASE SOCIAL O DE SALIDA

Actividades:

- Relaciona las columnas teniendo en cuenta las convenciones del mapa.

COLOR

Verde
Amarillo
Rojo
Azul
Naranja
Violeta

REGIÓN

Insular
Andina
Orinoquía
Amazonía
Pacífica
Caribe

- Lee cada afirmación y señala las que puedas concluir a partir de la información del mapa. Explica por qué.

- La región del Amazonas está ubicada al sur del país.
- En la Región Andina los indígenas fueron disminuidos por los españoles.
- Colombia es uno de los países más grandes de América del Sur.



- Propón nuevas convenciones para cada leyenda utilizando figuras o signos. Dibuja al lado de cada región.

	Andina
	Orinoquía
	Amazonía
	Pacífica
	Caribe
	Insular

Compromiso: Indica en los pasos lo que deberías seguir para elaborar un mapa donde se muestre los principales ríos que tiene Colombia. Realiza el mapa siguiendo estos pasos que creaste (el mapa debe ser realizado a mano siguiendo los pasos que creaste inicialmente, puedes ayudar calcando la forma del mapa de Colombia, pero lo demás debes realizarlo tu).

Evaluación: Para la evaluación de esta temática, se tendrán en cuenta factores como la realización de las actividades propuestas tanto en clase como en casa, la participación y actitud en clase y la aplicación de una evaluación escrita tipo pruebas saber.

SITUACIÓN(ES) PROBLEMA(S):

¿Cuáles son límites geográficos de Colombia?

FASE AFECTIVA O MOTIVACIONAL

Actividades:

En un mapa de América localizo a Colombia y la coloreo

Diagnóstico:

(Preguntas alusivas al tema para activar los conocimientos previos como: ¿Qué es un mapa, ¿En que contiene está ubicada Colombia?, ¿Con cuántos países limita Colombia?, ¿Colombia esta rodea de mares? ¿Qué mares rodean a Colombia?

Glosario: mapa, división territorial, límites, fronteras, latitud, longitud, ubicación, coordenadas, marítimo, terrestre.

FASE COGNITIVA O DE ELABORACIÓN

COLOMBIA Y SU UBICACIÓN GEOGRÁFICA Y ASTRONÓMICA

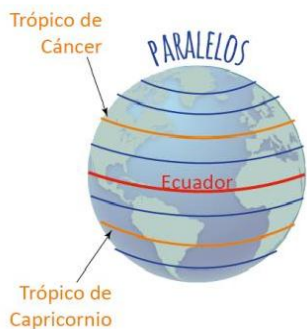
Colombia hace parte del continente Americano. Está situada la zona noroccidental del América del Sur y cuenta con costas en los océanos pacífico y Atlántico.

La ubicación geográfica de nuestro país está dada por las siguientes **coordenadas**



¿QUE SON LAS COORDENADAS GEOGRÁFICAS?

Las coordenadas geográficas son un conjunto de líneas imaginarias que permiten ubicar con exactitud un lugar en la superficie de la Tierra. Este conjunto de líneas corresponden a los **meridianos** y **paralelos**. Los puntos donde se cruzan los meridianos y los paralelos dan origen a las **coordenadas geográficas**.



Las líneas imaginarias que van de oriente a Occidente se denomina **paralelos**.

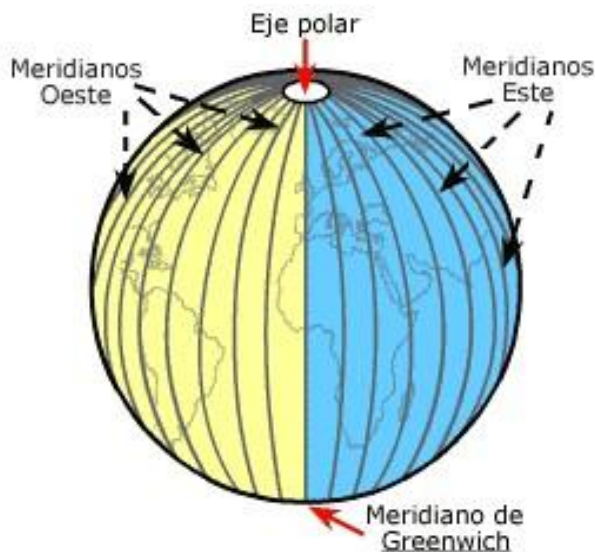
PARA RECORDAR:

Las líneas imaginarias que van del Polo Norte al Polo Sur se denomina **meridianos**



Meridiano de Greenwich

LOS MERIDIANOS Y LA LONGITUD



Los meridianos te indican la **longitud**, es decir, la distancia que hay en grados ($^{\circ}$), minutos ($'$) y segundos ($''$) desde cualquier punto de la tierra hasta el **meridiano de Greenwich** o meridano 0° .

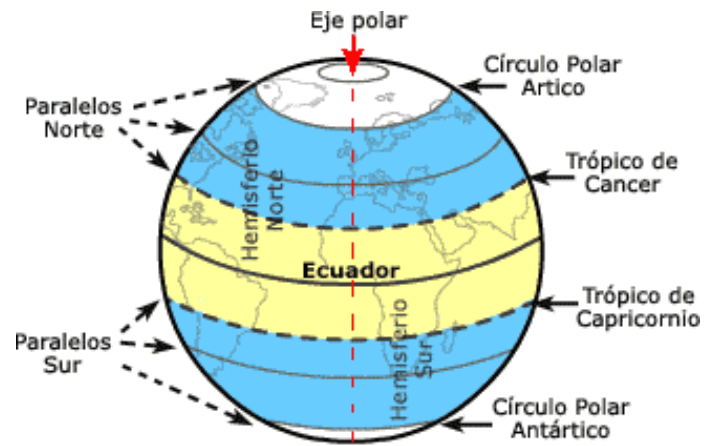
Si el punto se encuentra entre el **meridiano de Greenwich** y el **meridiano 180°** al oriente, tendrá latitud oriental, si el punto se encuentra entre el **meridiano de Greenwich** y el **meridiano 180°** al occidente, tendrá latitud occidental.

Por ejemplo: el territorio de Colombia está entre los 66° y los 79° de longitud occidental, es decir, que todo su territorio se encuentra en el hemisferio occidental.

LOS PARALELOS Y LA LATITUD

Los paralelos indican la latitud de cualquier lugar del planeta, es decir, cuál es su distancia en grados ($^{\circ}$), minutos ($'$) y segundos ($''$) entre la línea del Ecuador hasta cualquier otro punto de la tierra. Si el punto se encuentra entre la línea del Ecuador y el Polo Norte, tendrá latitud norte, si el punto se encuentra entre la línea del Ecuador y el Polo Sur, tendrá latitud sur.

Por ejemplo: el territorio de Colombia está entre los 12° de latitud norte y los 4° de latitud sur.



PARALELOS

FRONTERAS MARÍTIMAS DE COLOMBIA

Con los tratados internacionales, Colombia ha ganado más de 988.000 Km² en extensión, o sea Colombia cuenta ahora con 2'129.748 Km² de extensión territorial, teniendo en cuenta que al archipiélago de San Andrés y Providencia se aplica el mismo postulado.

País	Tratado	Fecha
Costa Rica	Fernández-Facio	Marzo 17 de 1977
	Lloreda-Gutierrez	Abril 6 de 1984
Ecuador	Liévano-Lucio	Agosto 23 de 1975
Estados Unidos *	Vásquez-Saccio	Septiembre 8 de 1972
Haití	Liévano-Brutus	Febrero 17 de 1978
Honduras	Ramírez-López	Agosto 2 de 1986
Jamaica	Sanín-Robertson	Noviembre 12 de 1993
Nicaragua	Esguerra-Bárcenas	Marzo 24 de 1928
Panamá	Liévano-Boyd	Noviembre 20 de 1976
Rep. Dominicana	Liévano-Jiménez	Enero 13 de 1978
Venezuela	Diferendo	Diferendo

* Colombia no limita con Estados Unidos, este es un acuerdo de explotación conjunta de pesca más no de límites.

Nuevos límites marítimos entre Colombia y Nicaragua

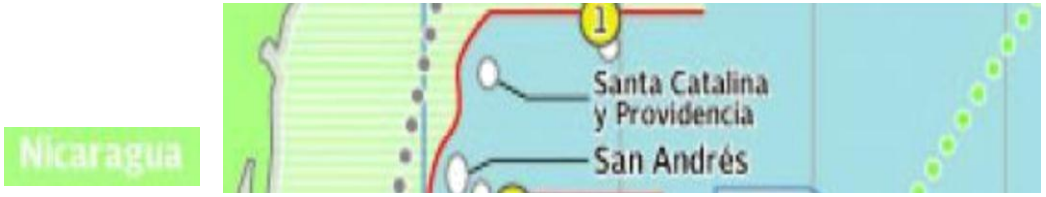
30 duías

- COL Frontera marítima que pretendió Colombia
- NI Frontera marítima que pretendió Nicaragua

- CAYOS**
1. Rouraer
 2. Quitasueño
 3. Samana
 4. San Andrés
 5. Bajo Nuevo
 6. Alburquerque

- Línea que trazó la ONU
- Espacio marítimo de Colombia
- Antigo límite marítimo de Colombia
- Espacio marítimo colombiano
- Área de pesca común

"Colo...tema...rial de lit"



Costa Rica

Meridiano 82

Guatemala





Evaluación

Realización de las actividades o cumplimiento de los compromisos de la fase cognitiva o de elaboración.

FASE SOCIAL O DE SALIDA

Actividades:

1. Colombia se encuentra al Noroccidente de América del Sur y limita:

- Al oriente, con: _____
- Al Sur, con: _____
- Al Occidente, con: _____
- Al norte, con: _____



2. Colorea a Colombia de verde y Ubica en el mapa los países que limitan con ella.
3. Escribe el nombre de los océanos que bordean a Colombia.

4. Observa el croquis y realiza las siguientes actividades:

- a. Colorea de rojo los lugares con los limita nuestro país por el oriente
- b. Colorea de verde los lugares con los limita nuestro país por el occidente
- c. Colorea de azul los lugares con los limita nuestro país por el Sur.
- d. Colorea de naranja los lugares con los limita nuestro país por el norte.



_____ Completa el enunciado con las palabras de la caja.

Las fronteras _____ de Colombia se establecen con cinco países: Brasil, _____ Ecuador, Perú y Panamá, mientras que las _____ marítimas son más amplias: Nicaragua, Costa Rica, República Dominicana, Honduras y Jamaica. Estos límites de Colombia se empezaron a crear a partir de la independencia en _____.



Compromiso:

Responde:

- ¿Cuáles son las mayores fronteras terrestres?
- ¿Por qué Colombia tiene límites marítimos con tantos países?
- ¿Qué consecuencias tiene esta situación de límites para nuestro país?

Evaluación:

Realización de las actividades propuestas tanto en clase como en casa, evaluación escrita.

SITUACION(ES) PROBLEMA(S):

¿Cómo está organizado el país político, administrativa y territorialmente?

FASE AFECTIVA O MOTIVACIONAL

Actividades:

Materiales: Mapa político de Colombia a blanco y negro.

- Identifico y coloreo en el mapa el departamento en el que vivo y los que colindan con él.

Diagnóstico: ¿Sabes cómo está dividido nuestro país? ¿Cuántos departamentos tiene?

Glosario: Organización, territorio, Estado, Nación.

FASE COGNITIVA O DE ELABORACIÓN

COLOMBIA: UN ESTADO NACIÓN

La República de Colombia es un **Estado – nación**. Es decir, un conjunto de personas con características culturales comunes que viven en un territorio, con un gobierno y unas instituciones que lo administran. El estado colombiano está compuesto por tres elementos principales: **las entidades territoriales, la población y el poder público**.

Las entidades territoriales

Son las **divisiones** políticas y administrativas del país, y las componen:

Los departamentos

Son unidades territoriales conformadas por varios municipios. en nuestro país existen 32 departamentos como Cauca o Meta.

Los municipios

Son unidades territoriales más pequeñas que los departamentos, y comprenden las ciudades y los pueblos. en Colombia hay 1.123 municipios.

Los distritos

Son ciudades con características especiales que las hacen destacarse entre las demás por su importancia política, económica y cultural. en nuestro país existen 10 Distritos como Bogotá y Cartagena.

Los resguardos

Son territorios donde habita la población indígena y protegen sus tradiciones culturales, económicas y políticas. En Colombia hay 567 resguardos.



Para analizar: En el siglo XIX nuestro país estaba organizado territorialmente por **Estados, provincias, cantones y distritos parroquiales**.

ACTIVIDADES:

- Con la ayuda del mapa político de Colombia, dibuja en tu libreta el **Departamento** del Atlántico, divídelo en sus 23 **Municipios**, el Municipio de Barranquilla ha sido reconocido como **distrito identificalo** indicando su nombre con una flecha, también contamos con **resguardos indígenas** como los Mokana en el Municipio de Tubara identifica esta comunidad indicando su nombre y ubicación aproximada.

FASE SOCIAL O DE SALIDA

1. Busca en la sopa de letras diez palabras para completar la información del siguiente texto:



Colombia es un _____
 -nación conformado por sus habitantes, el _____ y el poder público.
 Está organizado como una _____
 con centralización política y descentraliza-
 ción _____
 Tiene una _____ de
 2.070.408 km², distribuidos en una zona
 _____, una zona marítima
 y un _____ aéreo.
 Posee _____ con once
 países, entre los que se encuentran
 _____ y Nicaragua.

Compromiso: Investiga cuales son los municipios de Colombia que han sido elevados a categoría de Distritos, y los identifico en un Mapa político de Colombia coloreándolos e indica su nombre.

Evaluación: Para la evaluación de esta temática, se tendrán en cuenta factores como la realización de las actividades propuestas tanto en clase como en casa, la participación y actitud en clase y la aplicación de una evaluación escrita tipo pruebas saber.

SITUACIÓN(ES) PROBLEMA(S):

¿Qué es una región geográfica? ¿Cuál es la importancia de dividir los países en regiones geográficas?

FASE AFECTIVA O MOTIVACIONAL

Actividades: Observa las imágenes y responde

Diagnóstico: ¿Cuál de los paisajes registrados en estas fotos se parece más al de tu municipio o departamento?

¿A cuál de estos lugares te gustaría viajar? y ¿por qué?

Escoge dos fotografías y establece ¿en qué se parecen? y ¿en qué se diferencian?

